	Tablero n°	Nombre y Apellidos:		Nota
	Departamento de Matemáticas	Grupo:	Fecha:	
	Sesión 17: Táctica: Rayos X.			

**INFORMACIÓN** - La actividad debe hacerse limpia, ordenada y sin faltas de ortografía. Se debe hacer a bolígrafo y no se permite usar corrector. Realiza los ejercicios indicando la notación algebraica. Cada falta de ortografía: -0.1p | Poca limpieza: -0.5p

Otra táctica interesante es un **ataque de rayos X**, ocurre cuando una pieza de ataque es defendida por una pieza que parece estar obstruida por otra pieza enemiga.



En este caso la torre negra no puede impedir el mate ni con la ayuda de su dama

1.Df4-f8+ Te8xf8 2.Td8xf8#


Actividad 1: Juegan blancas y dan mate:

	¿Qué pieza estaba obstruida?	

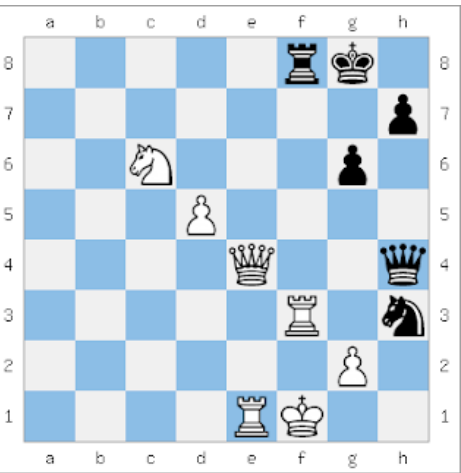
Actividad 2: Juegan blancas:

	¿Qué pieza estaba obstruida? Busca una clavada:	
	¿De qué tipo?	


Actividad 3: Juegan negras y dan mate:

 <p>The chessboard shows a position where Black is to move. The King is on g8, and the Queen is on d5. There are several pawns and other pieces on the board.</p>	
	<p>¿Qué pieza negra está oculta tras una del adversario?</p> <p>¿Por qué no puede comer a la dama negra con el rey blanco?</p>

Actividad 4: Juegan negras y dan mate:

 <p>The chessboard shows a position where Black is to move. The King is on f8, and the Queen is on d4. There are several pawns and other pieces on the board.</p>	
	<p>¿Qué pieza negra está oculta tras una del adversario?</p> <p>¿Por qué no puede comer a la dama negra con el rey blanco?</p>

Actividad 5: Juegan blancas y dan mate:

 <p>The chessboard shows a position where White is to move. The King is on g8, and the Queen is on b5. There are several pawns and other pieces on the board.</p>	
	<p>¿Qué pieza está oculta tras una del adversario?</p> <p>¿Por qué no puede huir el rey?</p>